

Прізвище ім'я:

Клас:

Дата:

Екстернат 11 клас. Проектування та верстка веб-сторінок.

? Запитання №1 (з однією правильною відповіддю)

Стандартна мова розмітки веб-сторінок в Інтернеті

- А) HTML Б) VBA
 В) FIFA Г) LaTeX
 Д) SMM

? Запитання №2 (з однією правильною відповіддю)

Яке розширення файла використовують для веб-сторінок?

- А) .html Б) .web
 В) .txt Г) .docx
 Д) .http Е) .https

? Запитання №3 (з однією правильною відповіддю)

Фрагмент коду, що описує певні елементи документа HTML і вміщений у кутові дужки < > називається

- А) тег Б) біт
 В) атрибут Г) браузер

? Запитання №4 (з однією правильною відповіддю)

Початок і кінець HTML-документа позначаються парою тегів:

- А) <html>... </html> Б) <h1></h1>
 В) <body>...</body> Г) <head></head>
 Д) </html>... <html>

? Запитання №5 (з однією правильною відповіддю)

Тег, що охоплює ту частину HTML-документа (текст, зображення й елементи формування), що буде видна користувачеві.

- А) <html></html> Б) <title></title>
 В) <body></body> Г) <head></head>

? Запитання №6 (з однією правильною відповіддю)

Тег який установлює назву HTML-документа, що виведена у вкладці вікна браузера.

- А) <html></html> Б) <title></title>
 В) <body></body> Г) <head></head>


? Запитання №7 (з кількома правильними відповідями)

Виберіть всі закриваючі теги:

- | | |
|--------------------------------------|--------------------------------------|
| <input type="checkbox"/> А) <title> | <input type="checkbox"/> Б) </title> |
| <input type="checkbox"/> В) <\title> | <input type="checkbox"/> Г) <p> |
| <input type="checkbox"/> Д) <body> | <input type="checkbox"/> Е) </html> |
| <input type="checkbox"/> Є) </body> | <input type="checkbox"/> Ж) <i> |

? Запитання №8 (на встановлення відповідності)

Назвіть частини HTML-елемента:



- | | |
|------|---------------------|
| 1) 1 | А) Відкриваючий тег |
| 2) 2 | Б) Атрибут |
| 3) 3 | В) Вміст (Content) |
| 4) 4 | Г) Закриваючий тег |

Вкажіть відповідність:

	А	Б	В	Г
1				
2				
3				
4				

? Запитання №9 (з кількома правильними відповідями)

Виберіть теги, які відносяться до форматування тексту

- | | |
|-----------------------------------|----------------------------------|
| <input type="checkbox"/> А) br | <input type="checkbox"/> Б) img |
| <input type="checkbox"/> В) table | <input type="checkbox"/> Г) font |
| <input type="checkbox"/> Д) b | <input type="checkbox"/> Е) h1 |

? Запитання №10 (з однією правильною відповіддю)

Ім'я тега HTML завжди береться в

- | | |
|------------------------------|------------------------------|
| <input type="radio"/> А) < > | <input type="radio"/> Б) // |
| <input type="radio"/> В) [] | <input type="radio"/> Г) () |
| <input type="radio"/> Д) { } | |

? Запитання №11 (з однією правильною відповіддю)

Яка з наведених послідовностей правильна?

- А) <HTML> <TITLE> <BODY> <HEAD> </BODY> </HEAD> </HTML> </HTML> <TITLE> </TITLE> </HEAD> <
- В) <HTML> <TITLE> </TITLE> <HEAD> </HEAD> <BODY> </BODY> </HTML>

? Запитання №12 (на встановлення відповідності)

Встановіть відповідність:

Елемент	Опис
1) <body>	А) містить основний контент веб-документа
2) <head>	Б) задає "голову" HTML-документа, містить службову інформацію
3) <html>	В) є контейнером для <head> та <body>

Вкажіть відповідність:

	А	Б	В
1			
2			
3			

? Запитання №13 (із заповненням пропусків у тексті)

Задайте заголовок другого рівня:

<___>Глава 1<_____>

? Запитання №14 (з однією правильною відповіддю)

Що з переліченого не входить до складових структури сайту?

- А) Заставка сайту
- Б) Структура навігації
- В) Банер
- Г) Структура каталогів

? Запитання №15 (з однією правильною відповіддю)

До будь-якої сторінки сайту користувач має дістатися не більш ніж за три переходи. Яку назву має дане правило?

- А) Правило "3 по 3"
- Б) Правило "трьох кліків"
- В) Правило "лівої руки"

? Запитання №16 (з кількома правильними відповідями)

Які види списків можна створювати на веб-сторінці мовою HTML?

- А) маркований Б) послідовний
- В) нумерований Г) список визначень
- Д) словниковий

? Запитання №17 (на встановлення відповідності)

Установіть відповідність між видом списку та тегом, за допомогою якого він створюється:

- | | |
|-----------------------|------------------|
| Теги | Види списків |
| 1) Маркований список | А) ... |
| 2) Нумерований список | Б) <DL>...</DL> |
| 3) Список визначень | В) ... |
| | Г) ... |

Вкажіть відповідність:

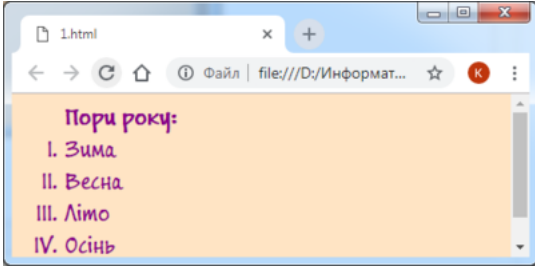
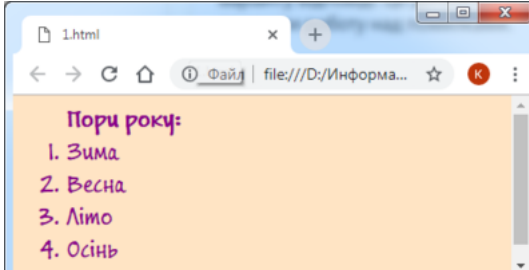
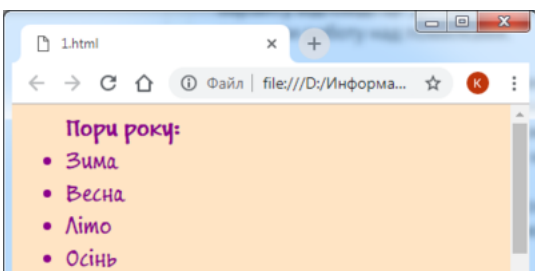
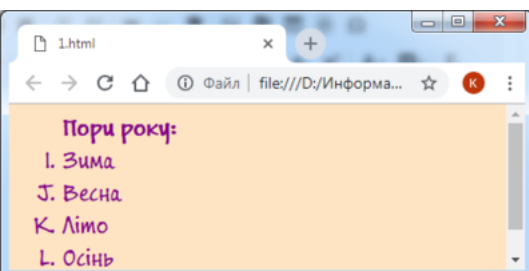
	А	Б	В	Г
1				
2				
3				

? Запитання №18 (з однією правильною відповіддю)

Який список буде створено за допомогою HTML-коду:

```

<ol type="A" start="9"><b>Пори року:</b>
  <li>Зима</li>
  <li>Весна</li>
  <li>Літо</li>
  <li>Осінь</li>
</ol>
    
```

- А) 
- Б) 
- В) 
- Г) 

? Запитання №19 (з однією правильною відповіддю)

Тег служить для ...

- А) налаштування абзацу
- Б) встановлення властивостей зображення
- В) зміни параметрів гіперпосилань
- Г) форматування тексту

? Запитання №20 (на встановлення відповідності)

Установити відповідність між атрибутами тегу та їх призначенням:

Атрибут тегу

- 1) color
- 2) face
- 3) size

Призначення

- А) Визначає розмір шрифту
- Б) Визначає колір тексту
- В) Визначає шрифт тексту
- Г) Визначає накреслення тексту

Вкажіть відповідність:

	А	Б	В	Г
1				
2				
3				

? Запитання №21 (на встановлення відповідності)

Установіть відповідність між тегами форматування тексту та їх призначенням:

Тег

- 1) <u>...</u>
- 2) ...
- 3) <i>...</i>
- 4) _{...}
- 5) ^{...}

Призначення

- А) Нижній індекс
- Б) Курсивне накреслення
- В) Верхній індекс
- Г) Напівжирне накреслення
- Д) Підкреслений шрифт

Вкажіть відповідність:

	А	Б	В	Г	Д
1					
2					
3					
4					
5					

? Запитання №22 (з однією правильною відповіддю)

Який тег визначає найбільший заголовок?

- А) <H6>
- Б) <H5>
- В) <H4>
- Г) <H3>
- Д) <H2>
- Е) <H1>